









The Garbage Barge - La résolution de problèmes 3eme année

Résultat inconnu.



Addition à 1000 et les soustractions correspondantes

<p>163 kg des déchets étaient du plastique. 295 kg des déchets étaient du métal. Combien de déchets y-a-t-il en tout?</p> 	<p>Il y avait 489 tonnes de déchets sur le bateau. Cap'm Duffy a déchargé 362 tonnes de déchets à Nouvelle Orléans. Combien de tonnes de déchets reste-t-il sur le bateau?</p> 
<p>Il y avait 888 km de la côte à traverser. Le bateau a déjà traversé 234 km de la côte. Combien de kilomètres est-ce que le bateau doit encore traverser?</p> 	<p>Cap'm Duffy a été ordonné à déplacer ses déchets 431 fois en un mois. Le mois suivant il a été ordonné à déplacer les déchets 386 fois. Combien de fois est-ce que Cap'm Duffy a été ordonné à déplacer les déchets en tout?</p> 
<p> Il y avait 620 pneus sur le bateau. Cap'M Duffy a utilisé 198 comme pare-chocs pour protéger le bateau. Combien de pneus reste-t-il sur le bateau?</p>	<p> Il y avait 943 sandwiches pourris sur le bateau. Les oiseaux en ont mangés 287. Combien de sandwiches reste-t-il sur le bateau?</p>
<p>Cap'm Duffy a dû voyager 565 m en arrière avant qu'il pouvait tourner le bateau. Ensuite il est allé 182 m en avant. Quelle distance a-t-il voyagé en tout?</p> 	<p> 941 blagues étaient racontées au sujet du bateau de déchets. 270 des blagues étaient racontées à la radio et le reste à la télévision. Combien de blagues étaient racontées à la télévision?</p>

[Type text]