









## The Garbage Barge - La résolution de problèmes 4eme année

Résultat inconnu.



Addition à 10 000 et les soustractions correspondantes

<p>2116 kg des déchets étaient du plastique. 299 kg des déchets étaient du métal. Combien de déchets y-a-t-il en tout?</p> 	<p>Il y avait 487 tonnes de déchets sur le bateau. Cap'm Duffy a déchargé 396 tonnes de déchets à New Orleans. Combien de tonnes de déchets reste-t-il sur le bateau?</p> 
<p>Il y avait 2228 km de la côte à traverser. Le bateau a traversé 893 km de la côte. Combien de kilomètres est-ce que le bateau doit encore traverser?</p> 	<p>Cap'm Duffy a été ordonné à déplacer ses déchets 5143 fois en un mois. Le mois suivant il a été ordonné à déplacer les déchets 938 fois. Combien de fois est-ce que Cap'm Duffy a été ordonné à déplacer les déchets en tout?</p> 
<p> Il y avait 1988 roues sur le bateau. Cap'M Duffy a utilisé 627 comme pare-chocs pour protéger le bateau. Combien de roues reste-t-il sur le bateau?</p>	<p> Il y avait 9482 sandwichs pourris sur le bateau. Les oiseaux en a mangé 288. Combien de sandwichs reste-t-il sur le bateau?</p>
<p>Cap'm Duffy a du voyager 5 639 m en arrière avant qu'il pouvait tourner le bateau. Ensuite il est allé 6 212 m en avant. Quelle distance a-t-il voyagé en tout?</p> 	<p> 3294 blagues étaient racontées au sujet du bateau de déchets. 2110 des blagues étaient racontées à la radio et le reste à la télévision. Combien de blagues étaient racontées à la télévision?</p>

[Type text]